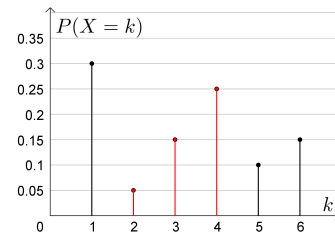


Wahrscheinlichkeiten als Flächeninhalte

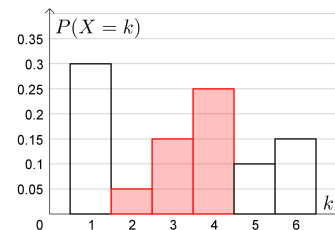


Eine **Zufallsvariable**  $X$  kann die Werte 1, 2, 3, 4, 5 oder 6 annehmen. Die zugehörigen Wahrscheinlichkeiten sind rechts in einem Stabdiagramm dargestellt. Trage die Wahrscheinlichkeiten (in %) unten in die Tabelle ein.

|            |     |    |     |     |     |     |
|------------|-----|----|-----|-----|-----|-----|
| $k$        | 1   | 2  | 3   | 4   | 5   | 6   |
| $P(X = k)$ | 30% | 5% | 15% | 25% | 10% | 15% |



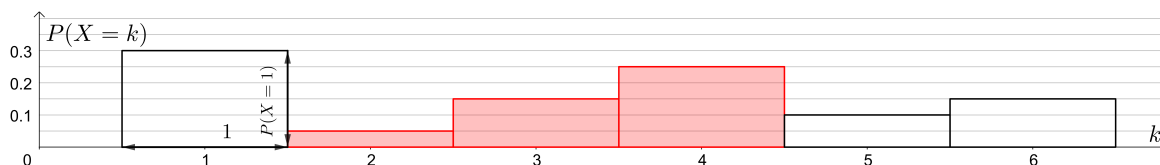
Wir wandeln das Stabdiagramm in ein bestimmtes Säulendiagramm um: Dazu ersetzen wir jeden Stab jeweils durch ein Rechteck mit derselben Höhe und der *Breite* 1. Das Ergebnis ist rechts dargestellt.



Der **Flächeninhalt** jeder Säule ist damit gleich groß wie die entsprechende **Wahrscheinlichkeit**.

Wir können die beiden Achsen unabhängig voneinander skalieren.

Die *tatsächlichen* Breiten und Höhen der Säulen – und damit der Flächeninhalt – bleiben unverändert:



Die Wahrscheinlichkeit  $P(2 \leq X \leq 4)$  ist in jedem der drei Bilder rot hervorgehoben. Es gilt:

$$P(2 \leq X \leq 4) = 5\% + 15\% + 25\% = 45\%$$

Binomialverteilung



Wir würfeln  $n$  Mal mit einem fairen 6-seitigen Würfel.

Die Zufallsvariable  $S_n$  gibt die Anzahl der geworfenen Sechser an.

Rechts unten sind die Wahrscheinlichkeiten bei  $n = 60$  Würfeln in einem Säulendiagramm dargestellt. Gesucht ist die Wahrscheinlichkeit, dabei mindestens 8 Sechser, aber höchstens 10 Sechser zu würfeln.

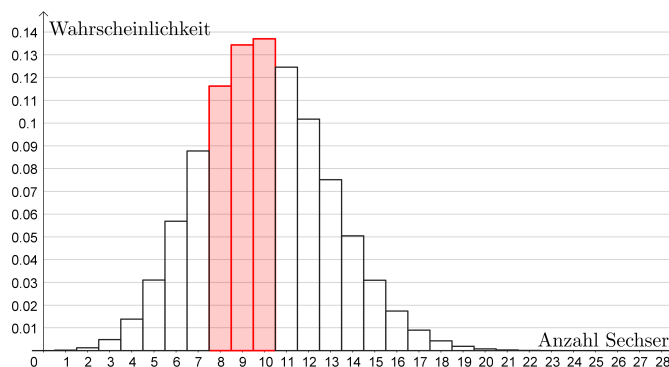
- 1) Markiere rechts die zugehörige Fläche.
- 2) Ermittle die Wahrscheinlichkeit mithilfe des Säulendiagramms näherungsweise:

$$P(8 \leq S_{60} \leq 10) \approx 39\%$$

- 3) Ermittle die Wahrscheinlichkeit mit Technologieeinsatz.

Binomialverteilung:  $n = 60, p = \frac{1}{6}$

$$P(8 \leq S_{60} \leq 10) = 38,75\ldots\%$$

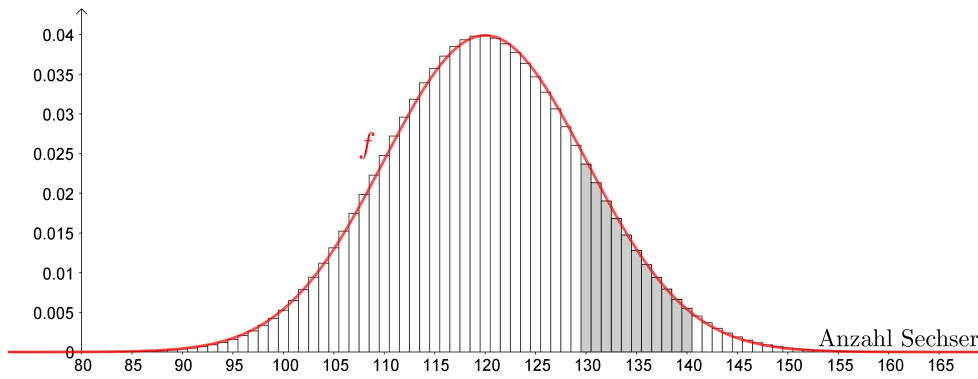


- 4) Trage Zahlen richtig in die Kästchen ein:

$$P(8 \leq S_{60} \leq 10) = \underbrace{\binom{60}{8} \cdot \left(\frac{1}{6}\right)^8 \cdot \left(\frac{5}{6}\right)^{52}}_{P(S_{60}=8)} + \underbrace{\binom{60}{9} \cdot \left(\frac{1}{6}\right)^9 \cdot \left(\frac{5}{6}\right)^{51}}_{P(S_{60}=9)} + \underbrace{\binom{60}{10} \cdot \left(\frac{1}{6}\right)^{10} \cdot \left(\frac{5}{6}\right)^{50}}_{P(S_{60}=10)}$$



Bei  $n = 720$  Würfeln nimmt das Säulendiagramm von  $S_{720}$  die folgende Form an:



Animationen:  
 y-Achse variabel skaliert  
 y-Achse fix skaliert

Der Flächeninhalt der grau markierten Säulen ist die Wahrscheinlichkeit  $P(130 \leq S_{720} \leq 140)$ .

Wir haben auch den Graphen einer ganz bestimmten Funktion  $f$  eingezeichnet. Dieser Graph schmiegt sich an das glockenförmige Profil des Säulendiagramms an. Wie würdest du mithilfe von  $f$  diese Wahrscheinlichkeit *näherungsweise* berechnen?

$$P(130 \leq S_{720} \leq 140) \approx \int_{130}^{140} f(x) dx \quad \text{oder} \quad \int_{129,5}^{140,5} f(x) dx$$

Dichtefunktion der Standardnormalverteilung



Die Funktion  $\varphi$  mit  $\varphi(x) = \frac{1}{\sqrt{2 \cdot \pi}} \cdot e^{-\frac{1}{2} \cdot x^2}$  heißt **Dichtefunktion** der **Standardnormalverteilung**.

Die Dichtefunktion  $\varphi$  hat die folgenden Eigenschaften:

- 1) Alle Funktionswerte sind positiv. Warum?

$$\frac{1}{\sqrt{2 \cdot \pi}} > 0 \quad \text{und} \quad e^z = (2,718\dots)^z > 0 \quad \text{für alle } z \in \mathbb{R}$$

Also ist  $\varphi(x)$  als Produkt positiver Zahlen positiv.

- 2) Der größte Funktionswert ist an der Stelle  $x = 0$ .

$$\varphi'(x) = \underbrace{\frac{1}{\sqrt{2 \cdot \pi}} \cdot e^{-\frac{1}{2} \cdot x^2}}_{\text{Kettenregel}} \cdot (-x) = \varphi(x) \cdot (-x)$$

- 3) Die beiden Wendestellen sind  $x = -1$  und  $x = 1$ .

$$\varphi''(x) = \underbrace{\varphi'(x) \cdot (-x) + \varphi(x) \cdot (-1)}_{\text{Produktregel}} = \varphi(x) \cdot x^2 - \varphi(x) = \varphi(x) \cdot (x^2 - 1) = \varphi(x) \cdot (x+1) \cdot (x-1)$$

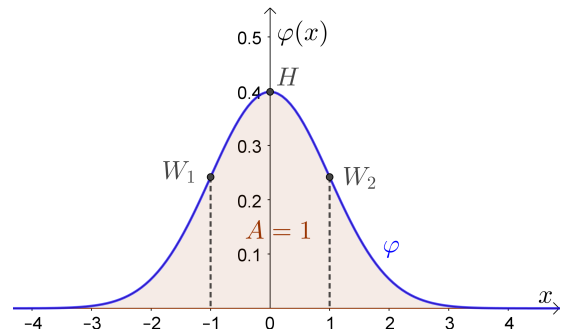
- 4) Aus  $x^2 = (-x)^2$  folgt  $\varphi(x) = \varphi(-x)$  für alle  $x \in \mathbb{R}$ .

Der Graph ist deshalb symmetrisch zur senkrechten Achse.  $\varphi$  ist eine **gerade** Funktion.

- 5) Aus  $\lim_{n \rightarrow \infty} e^{-n} = \lim_{n \rightarrow \infty} \frac{1}{e^n} = 0$  folgt:  $\lim_{x \rightarrow \infty} \varphi(x) = 0$  bzw.  $\lim_{x \rightarrow -\infty} \varphi(x) = 0$

- 6) Auch wenn  $\varphi$  **keine** elementare **Stammfunktion** hat, kann man folgende Eigenschaft zeigen:

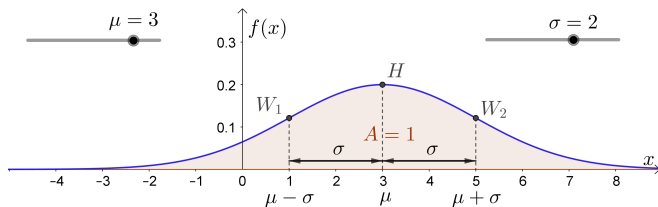
$$A = \int_{-\infty}^{\infty} \varphi(x) dx = 1 = 100\%$$



Die Funktion  $f$  mit

$$f(x) = \frac{1}{\sigma \cdot \sqrt{2 \cdot \pi}} \cdot e^{-\frac{1}{2} \cdot \left(\frac{x-\mu}{\sigma}\right)^2}$$

heißt **Dichtefunktion** der **Normalverteilung** mit **Erwartungswert  $\mu$**  und **Standardabweichung  $\sigma > 0$** .



Die Dichtefunktion  $f$  hat die folgenden Eigenschaften:

- 1) Alle Funktionswerte sind positiv.
- 2) Der größte Funktionswert ist an der Stelle  $x = \mu$ .
- 3) Die beiden Wendestellen sind  $x = \mu - \sigma$  und  $x = \mu + \sigma$ .
- 4) Es gilt  $f(\mu + x) = f(\mu - x)$  für alle  $x \in \mathbb{R}$ .  
Also ist der Graph symmetrisch zur senkrechten Gerade  $x = \mu$ .
- 5) Es gilt:  $\lim_{x \rightarrow \infty} f(x) = 0$  bzw.  $\lim_{x \rightarrow -\infty} f(x) = 0$
- 6) Der gesamte Flächeninhalt zwischen der  $x$ -Achse und dem Funktionsgraphen ist 1.
- 7) Eine Veränderung von  $\mu$  bewirkt eine **Verschiebung** des Graphen in  $x$ -Richtung.
- 8) Je größer  $\sigma$  ist, desto **kleiner** ist der größte Funktionswert und desto **größer** ist die Entfernung der beiden Wendestellen.
- 9) Je kleiner  $\sigma$  ist, desto **größer** ist der größte Funktionswert und desto **kleiner** ist die Entfernung der beiden Wendestellen.
- 10)  $f$  ist die Dichtefunktion der Standardnormalverteilung, wenn  $\mu = 0$  und  $\sigma = 1$  ist.

Die beiden Funktionsgleichungen

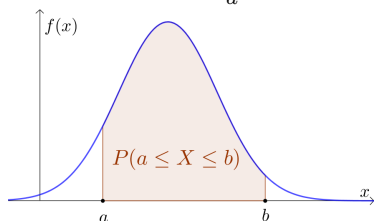
$$\varphi(x) = \frac{1}{\sqrt{2 \cdot \pi}} \cdot e^{-\frac{1}{2} \cdot x^2} \quad \text{und} \quad f(x) = \frac{1}{\sigma \cdot \sqrt{2 \cdot \pi}} \cdot e^{-\frac{1}{2} \cdot \left(\frac{x-\mu}{\sigma}\right)^2}$$

sind eng miteinander verknüpft. Tatsächlich entsteht der Graph von  $f$  aus dem Graphen von  $\varphi$  in 3 Schritten:

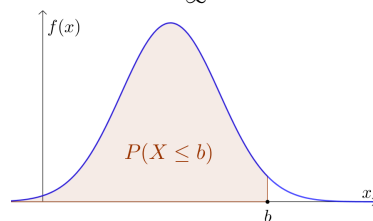
- i) **Horizontale Skalierung** um den Faktor  $\sigma$ :  
 $f_1(x) = \varphi\left(\frac{x}{\sigma}\right) = \frac{1}{\sqrt{2 \cdot \pi}} \cdot e^{-\frac{1}{2} \cdot \left(\frac{x}{\sigma}\right)^2}$
- ii) **Horizontale Verschiebung** um  $\mu$  Einheiten nach rechts:  
 $f_2(x) = f_1(x - \mu) = \frac{1}{\sqrt{2 \cdot \pi}} \cdot e^{-\frac{1}{2} \cdot \left(\frac{x-\mu}{\sigma}\right)^2}$
- iii) **Vertikale Skalierung** um den Faktor  $\frac{1}{\sigma}$ :  
 $f(x) = \frac{f_2(x)}{\sigma} = \frac{1}{\sigma \cdot \sqrt{2 \cdot \pi}} \cdot e^{-\frac{1}{2} \cdot \left(\frac{x-\mu}{\sigma}\right)^2}$

$f$  ist die Dichtefunktion der Normalverteilung mit Erwartungswert  $\mu$  und Standardabweichung  $\sigma > 0$ . Eine **Zufallsvariable  $X$**  heißt **normalverteilt** mit **Erwartungswert  $\mu$**  und **Standardabweichung  $\sigma$** , wenn die folgenden Gleichungen für alle reellen Zahlen  $a \leq b$  gelten:

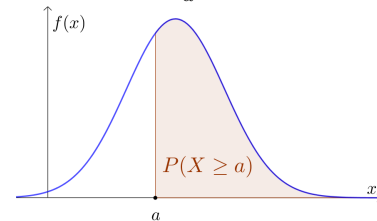
$$P(a \leq X \leq b) = \int_a^b f(x) dx$$



$$P(X \leq b) = \int_{-\infty}^b f(x) dx$$



$$P(X \geq a) = \int_a^{\infty} f(x) dx$$



Eine normalverteilte Zufallsvariable kann also jede reelle Zahl als Wert annehmen.

$f(a) \neq P(X = a)$

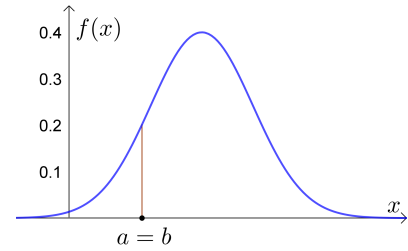


$X$  ist eine normalverteilte Zufallsvariable mit Dichtefunktion  $f$ .  
 Wie wahrscheinlich ist es, dass  $X$  *genau* den Wert  $a \in \mathbb{R}$  annimmt?  
 Für diese Wahrscheinlichkeit gilt:

$$P(X = a) = P(a \leq X \leq a) = \int_a^a f(x) dx = 0$$

Wenn  $X$  eine normalverteilte Zufallsvariable ist, dann gilt also:

$$P(X \leq a) = P(X < a) + P(X = a) = P(X < a)$$



Das ist anders als bei der [Binomialverteilung](#).

**Körpergröße** **MmF**

Die Körpergröße  $X$  von 42-jährigen Männern ist annähernd normalverteilt mit Erwartungswert  $\mu = 177,8$  cm und Standardabweichung  $\sigma = 6,1$  cm. Ein 42-jähriger Mann wird zufällig ausgewählt.

a) Berechne mit Technologieeinsatz die Wahrscheinlichkeit, dass seine Körpergröße ...

... im Intervall [174 cm; 178 cm] liegt.

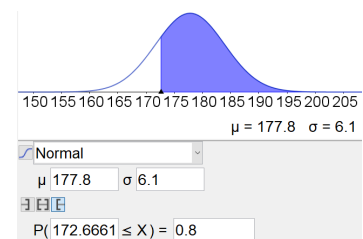
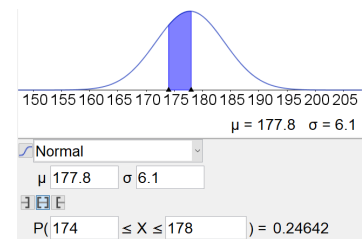
$$P(174 \leq X \leq 178) = 0,2464... = 24,64...%$$

... größer als 190 cm ist.

$$P(X > 190) = P(X \geq 190) = 0,0227... = 2,27...%$$

... kleiner als 178 cm ist.

$$P(X < 178) = P(X \leq 178) = 0,5130... = 51,30...%$$



b) Welche Körpergröße übertrifft er mit der Wahrscheinlichkeit 80 %?

$$P(X > a) = 80\% = 0,8 \implies a = 172,66... \text{ cm}$$

Welche Körpergröße übertrifft er mit der Wahrscheinlichkeit 45 % *nicht*?

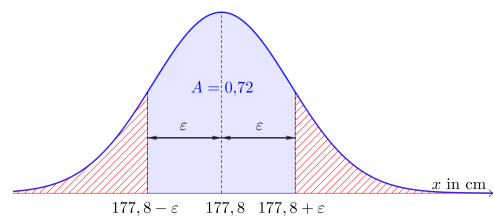
$$P(X \leq b) = 45\% = 0,45 \implies b = 177,03... \text{ cm}$$

c) In welchem um  $\mu$  symmetrischen Intervall liegt die Körpergröße mit der Wahrscheinlichkeit 72 %?

Dieses Intervall heißt auch zweiseitiger 72 %-Zufallsstrebereich für einen Einzelwert von  $X$ .

Rechts ist die zugehörige Fläche blau markiert. Welchen Inhalt haben die beiden rot schraffierten Flächen links und rechts vom um  $\mu$  symmetrischen Intervall jeweils?

$$\frac{1 - 0,72}{2} = 0,14$$



Berechne die beiden Intervallgrenzen mit Technologieeinsatz:

$$P(X \leq 171,2...) = 14\% \quad P(X \geq 184,3...) = 14\%$$

Die Körpergröße befindet sich also mit der Wahrscheinlichkeit 72 %  
 im Intervall [171,2... cm; 184,3... cm].



Die Zufallsvariable  $X$  ist normalverteilt mit Erwartungswert  $\mu$  und Standardabweichung  $\sigma > 0$ .  
 Man kann zeigen, dass die Wahrscheinlichkeit

$$P(\mu - k \cdot \sigma \leq X \leq \mu + k \cdot \sigma)$$

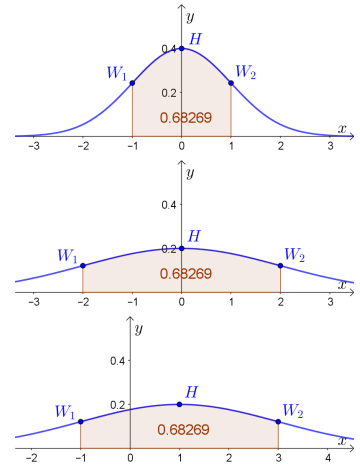
nicht von  $\mu$  bzw.  $\sigma$  abhängt, sondern nur von  $k \geq 0$ .

Zum Beispiel ist in jedem der drei Bilder rechts  $k = 1$ .

Ermittle die folgenden Wahrscheinlichkeiten mit Technologieeinsatz.

Runde jeweils auf eine Nachkommastelle.

- 1)  $P(\mu - 1 \cdot \sigma \leq X \leq \mu + 1 \cdot \sigma) \approx 68,3\%$
- 2)  $P(\mu - 2 \cdot \sigma \leq X \leq \mu + 2 \cdot \sigma) \approx 95,4\%$
- 3)  $P(\mu - 3 \cdot \sigma \leq X \leq \mu + 3 \cdot \sigma) \approx 99,7\%$



Die Zufallsvariable  $X$  ist normalverteilt mit  $\mu = 40$  g und  $\sigma = 2$  g. Du erzeugst eine große Stichprobe mit Werten aus dieser Normalverteilung. Beantworte die folgenden Fragen ohne Technologieeinsatz.

- a) In welchem um  $\mu$  symmetrischen Intervall sollten rund 95 % der Werte liegen?
- b) Ungefähr wieviel Prozent der Werte sollten kleiner als 38 g sein?

a)  $[\mu - 2 \cdot \sigma; \mu + 2 \cdot \sigma] = [36 \text{ g}; 44 \text{ g}]$

b)  $\approx 16\%$  (Außerhalb der  $1 \cdot \sigma$ -Umgebung liegen rund 32 % der Werte.)



Die Zufallsvariable  $X$  ist normalverteilt mit Erwartungswert  $\mu$  und Standardabweichung  $\sigma > 0$ .

Dann ist die Zufallsvariable  $Z = \frac{X - \mu}{\sigma}$  standardnormalverteilt – also mit  $\mu_Z = 0$  und  $\sigma_Z = 1$ .

Das heißt: Erfüllen die Intervallgrenzen von  $[x_1; x_2]$  und  $[z_1; z_2]$  die Gleichungen

$$z_1 = \frac{x_1 - \mu}{\sigma} \quad \text{und} \quad z_2 = \frac{x_2 - \mu}{\sigma},$$

dann gilt:  $P(x_1 \leq X \leq x_2) = P(z_1 \leq Z \leq z_2)$  Insbesondere gilt:  $P(\mu - k \cdot \sigma \leq X \leq \mu + k \cdot \sigma) = P(-k \leq Z \leq k)$

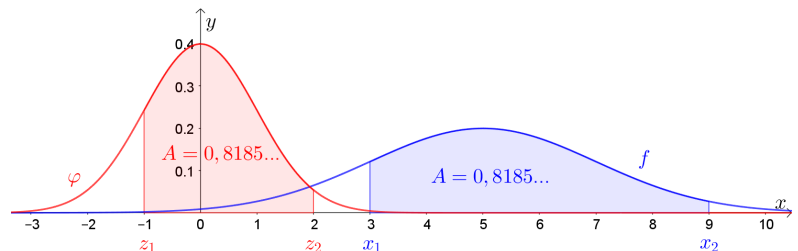
Für die normalverteilte Zufallsvariable  $X$  im Bild rechts unten gilt  $\mu = 5$  und  $\sigma = 2$ .

Trage Zahlen richtig in die Kästchen ein.

$$x_1 = 3 \implies z_1 = \frac{3 - 5}{2} = -1$$

$$x_2 = 9 \implies z_2 = \frac{9 - 5}{2} = 2$$

$$P(3 \leq X \leq 9) = P(-1 \leq Z \leq 2)$$



Allgemein gilt nämlich:  $\int_{x_1}^{x_2} \frac{1}{\sigma \cdot \sqrt{2 \cdot \pi}} \cdot e^{-\frac{1}{2} \cdot \left(\frac{x-\mu}{\sigma}\right)^2} dx = \int_{z_1}^{z_2} \frac{1}{\sqrt{2 \cdot \pi}} \cdot e^{-\frac{1}{2} \cdot z^2} dz$  (Substitution  $z = \frac{x-\mu}{\sigma}$  mit  $\frac{dz}{dx} = \frac{1}{\sigma}$ )

$= P(x_1 \leq X \leq x_2)$   $= P(z_1 \leq Z \leq z_2)$

Die normalverteilte Zufallsvariable  $X$  hat die Standardabweichung  $\sigma = 2$ . Weiters gilt:  $P(X \leq 8) = 0,62$   
 Wie groß ist der Erwartungswert  $\mu$  von  $X$ ?

Dazu berechnen wir die entsprechende Intervallgrenze  $z$  der standardnormalverteilte Zufallsvariable  $Z$ :

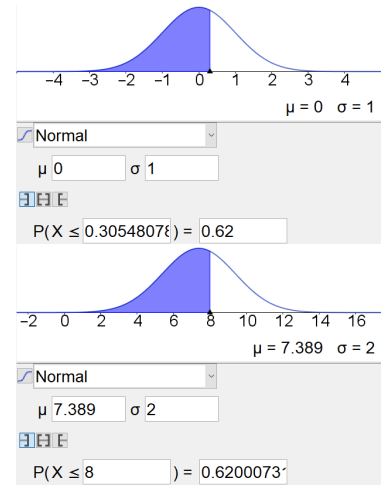
$$P(Z \leq z) = 0,62 \implies z = 0,30548\dots$$


Die Intervallgrenze  $x = 8$  von  $X$  entspricht also der Intervallgrenze  $z = 0,30548\dots$  von  $Z$ .

Setze in  $z = \frac{x - \mu}{\sigma}$  ein, und berechne den Erwartungswert  $\mu$  von  $X$ .

$$z \cdot \sigma = x - \mu \implies \mu = x - z \cdot \sigma = 7,389\dots$$

Rechts kontrollieren wir das Ergebnis mit Technologieeinsatz.



Annäherung: Binomialverteilung – Normalverteilung 

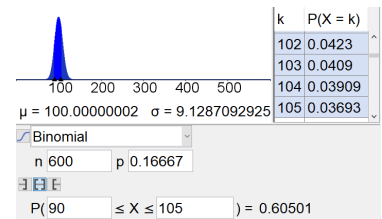
Du würfelst 600 Mal mit einem fairen 6-seitigen Würfel.  
 Wie wahrscheinlich ist es, dass du dabei mindestens 90, aber höchstens 105 Sechser würfelst?  
 Die Zufallsvariable  $X$  gibt die Anzahl der geworfenen Sechser an.

- 1)  $X$  ist binomialverteilt mit  $n = 600$  und  $p = \frac{1}{6}$ .

$$P(90 \leq X \leq 105) = 60,50\dots\%$$

$$\text{Erwartungswert: } E(X) = n \cdot p = 100$$

$$\text{Standardabweichung: } \sigma(X) = \sqrt{n \cdot p \cdot (1 - p)} = 9,128\dots$$

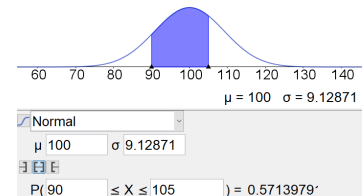


- 2) Wir können diese Wahrscheinlichkeit auch durch eine normalverteilte Zufallsvariable  $X'$  mit gleichem Erwartungswert und gleicher Standardabweichung annähern. **Satz von Moivre-Laplace**

$$\text{Erwartungswert: } \mu = E(X) = 100$$

$$\text{Standardabweichung: } \sigma = \sigma(X) = 9,128\dots$$

$$P(90 \leq X' \leq 105) = 57,13\dots\%$$

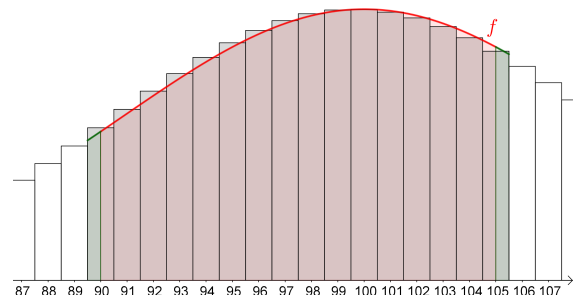


Rechts unten ist das Säulendiagramm der binomialverteilten Zufallsvariable  $X$  dargestellt.

Wodurch entsteht der (relativ große) Unterschied zwischen  $P(90 \leq X \leq 105)$  und  $\int_{90}^{105} f(x) dx$ ?

Eine bessere Annäherung erhalten wir durch Anwendung der sogenannten Stetigkeitskorrektur:

$$P(89,5 \leq X' \leq 105,5) = 60,15\dots\%$$



Warum nähert man die Binomialverteilung an? GeoGebra scheitert beim Versuch der exakten Berechnung von  $\binom{100000}{42000}$  zurecht. Bei  $n = 100000$  wird die Binomialverteilung aber relativ gut durch die Normalverteilung angenähert.

