



Ein **Zufallsexperiment** kann verschiedene **Ergebnisse** haben.
 Die Menge der möglichen Ergebnisse nennen wir den **Ergebnisraum Ω** .
 Ein **Ereignis** ist eine Teilmenge von Ω .



a) Beim Wurf einer Münze gibt es mögliche Ergebnisse:



$$\Omega = \{\text{Kopf, Zahl}\}$$

Ereignis: $A = \{\text{Kopf}\} = \text{„Münze zeigt Kopf.“}$

b) Beim Wurf eines **fairen** 6-seitigen Spielwürfels gibt es mögliche Ergebnisse:



$$\Omega = \{\square, \square, \square, \square, \square, \square\}$$

Ereignis: $G = \{\square, \square, \square\} = \text{„Würfel zeigt gerade Augenzahl.“}$

c) Beim Roulette gibt es 37 Felder, die mit den Zahlen von 0 bis 36 durchnummeriert sind.
 Davon sind 18 Felder rot, 18 Felder schwarz, und ein Feld ist grün. Mit einer Kugel wird ein Feld nach dem **Zufallsprinzip** ausgewählt. Es gibt mögliche Ergebnisse:



$$\Omega = \{0, 1, 2, \dots, 36\}$$

Ereignis: $U = \{1, 3, 5, \dots, 33, 35\} = \text{„Kugel landet auf Feld mit ungerader Zahl.“}$

d) Du würfelst mit zwei fairen 6-seitigen Spielwürfeln. Wenn das Ergebnis des Zufallsexperiments die **Augensumme** der beiden Würfel ist, dann gibt es mögliche Ergebnisse:



$$\Omega = \{2, 3, 4, 5, \dots, 12\}$$

Beschreibe die Ereignisse in Worten:

$$A = \{7\}, B = \{2, 4\}, C = \{9, 10, 11, 12\}, D = \{2, 3, 5, 7, 11\}$$

$A = \text{„} \text{ \text{“}$

$C = \text{„} \text{ \text{“}$

$B = \text{„} \text{ \text{“}$

$D = \text{„} \text{ \text{“}$

Bei diesem Zufallsexperiment treten die 11 möglichen Ergebnisse *nicht* alle mit gleicher Wahrscheinlichkeit auf.
 Mit dieser Modellierung ist es also *kein Laplace-Experiment*.



Bei Zufallsexperimenten mit endlich vielen möglichen Ergebnissen ordnen wir jedem Ereignis A eine Zahl $P(A)$ zu, nämlich die **Wahrscheinlichkeit, dass das Ereignis A eintritt**. (engl. probability)

Diese Zuordnung muss die folgenden Eigenschaften haben: Die **Funktion P** heißt **Wahrscheinlichkeitsmaß**.

i) $0 \leq P(A) \leq 1$ Die Wahrscheinlichkeit von Ereignissen kann *nicht* kleiner als 0% oder größer als 100% sein.

ii) $P(\Omega) = 1$ Das Ergebnis des Zufallsexperiments ist mit 100%-iger Wahrscheinlichkeit in Ω .

iii) $P(A \text{ oder } B) = P(A) + P(B)$, falls die Ereignisse A und B *kein* Ergebnis gemeinsam haben.

Wir sagen auch: „Die Ereignisse A und B schließen einander aus.“

Diese Eigenschaften i), ii) und iii) sind sogenannte **Axiome**.

Sie wurden im Jahr 1933 veröffentlicht und bilden heutzutage die Grundlage für die Wahrscheinlichkeitsrechnung.







Wir würfeln mit einem bestimmten **gezinkten** 6-seitigen Würfel: $\Omega = \{\cdot, \cdot\cdot, \cdot\cdot\cdot, \cdot\cdot\cdot\cdot, \cdot\cdot\cdot\cdot\cdot, \cdot\cdot\cdot\cdot\cdot\cdot\}$

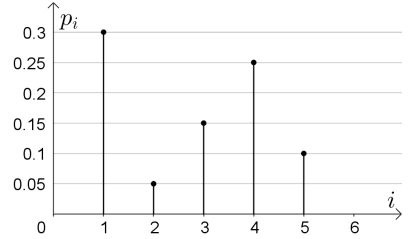
Bei einem gezinkten Würfel sind die 6 möglichen Ergebnisse *nicht* alle gleich wahrscheinlich.

Mit p_i wird die Wahrscheinlichkeit abgekürzt, dass der Würfel die Augenzahl i zeigt.

Im folgenden Stabdiagramm sind die Wahrscheinlichkeiten der Augenzahlen von 1 bis 5 dargestellt:

- Übertrage die Wahrscheinlichkeiten p_1, p_2, \dots, p_5 aus dem Stabdiagramm in die folgende Tabelle.

Ergebnis ω_i						
$p_i = P(\{\omega_i\})$						



- Ermittle p_6 , und zeichne rechts den zugehörigen Stab ein.

- Berechne die Wahrscheinlichkeit, dass man mit diesem Würfel mindestens die Augenzahl 5 würfelt.

$$P(\{\cdot\cdot\cdot, \cdot\cdot\cdot\cdot\}) = P(\{\cdot\cdot\cdot\} \text{ oder } \{\cdot\cdot\cdot\cdot\}) \stackrel{\text{iii)}}{=} \boxed{}$$

Ein Zufallsexperiment heißt **Laplace-Experiment**, wenn es die folgenden beiden Bedingungen erfüllt:

- Es gibt nur *endlich* viele Ergebnisse: $\Omega = \{\omega_1, \omega_2, \dots, \omega_n\}$
- Jedes dieser Ergebnisse tritt mit gleicher Wahrscheinlichkeit ein:

$$P(\{\omega_1\}) = P(\{\omega_2\}) = \dots = P(\{\omega_n\}) = \frac{1}{n}$$

Welche der folgenden Zufallsexperimente sind Laplace-Experimente?

- Einen fairen 6-seitigen Würfel einmal werfen.

Das Ergebnis des Zufallsexperiments ist die gewürfelte Augenzahl.

$\Omega = \boxed{}$	<table style="width: 100%; border-collapse: collapse;"> <tr><th colspan="2" style="background-color: #cccccc;">Ω endlich?</th></tr> <tr><td style="width: 50%;">ja</td><td style="width: 50%;">nein</td></tr> <tr><td style="text-align: center;"><input type="checkbox"/></td><td style="text-align: center;"><input type="checkbox"/></td></tr> </table>	Ω endlich?		ja	nein	<input type="checkbox"/>	<input type="checkbox"/>	<table style="width: 100%; border-collapse: collapse;"> <tr><th colspan="2" style="background-color: #cccccc;">Jedes Ergebnis gleich wahrscheinlich?</th></tr> <tr><td style="width: 50%;">ja</td><td style="width: 50%;">nein</td></tr> <tr><td style="text-align: center;"><input type="checkbox"/></td><td style="text-align: center;"><input type="checkbox"/></td></tr> </table>	Jedes Ergebnis gleich wahrscheinlich?		ja	nein	<input type="checkbox"/>	<input type="checkbox"/>	<table style="width: 100%; border-collapse: collapse;"> <tr><th colspan="2" style="background-color: #cccccc;">Laplace-Experiment?</th></tr> <tr><td style="width: 50%;">ja</td><td style="width: 50%;">nein</td></tr> <tr><td style="text-align: center;"><input type="checkbox"/></td><td style="text-align: center;"><input type="checkbox"/></td></tr> </table>	Laplace-Experiment?		ja	nein	<input type="checkbox"/>	<input type="checkbox"/>
Ω endlich?																					
ja	nein																				
<input type="checkbox"/>	<input type="checkbox"/>																				
Jedes Ergebnis gleich wahrscheinlich?																					
ja	nein																				
<input type="checkbox"/>	<input type="checkbox"/>																				
Laplace-Experiment?																					
ja	nein																				
<input type="checkbox"/>	<input type="checkbox"/>																				

- Aus einer Box mit 3 schwarzen und 2 weißen Kugeln eine Kugel nach dem Zufallsprinzip ziehen.

Das Ergebnis des Zufallsexperiments ist die Farbe der gezogenen Kugel.

$\Omega = \boxed{}$	<table style="width: 100%; border-collapse: collapse;"> <tr><th colspan="2" style="background-color: #cccccc;">Ω endlich?</th></tr> <tr><td style="width: 50%;">ja</td><td style="width: 50%;">nein</td></tr> <tr><td style="text-align: center;"><input type="checkbox"/></td><td style="text-align: center;"><input type="checkbox"/></td></tr> </table>	Ω endlich?		ja	nein	<input type="checkbox"/>	<input type="checkbox"/>	<table style="width: 100%; border-collapse: collapse;"> <tr><th colspan="2" style="background-color: #cccccc;">Jedes Ergebnis gleich wahrscheinlich?</th></tr> <tr><td style="width: 50%;">ja</td><td style="width: 50%;">nein</td></tr> <tr><td style="text-align: center;"><input type="checkbox"/></td><td style="text-align: center;"><input type="checkbox"/></td></tr> </table>	Jedes Ergebnis gleich wahrscheinlich?		ja	nein	<input type="checkbox"/>	<input type="checkbox"/>	<table style="width: 100%; border-collapse: collapse;"> <tr><th colspan="2" style="background-color: #cccccc;">Laplace-Experiment?</th></tr> <tr><td style="width: 50%;">ja</td><td style="width: 50%;">nein</td></tr> <tr><td style="text-align: center;"><input type="checkbox"/></td><td style="text-align: center;"><input type="checkbox"/></td></tr> </table>	Laplace-Experiment?		ja	nein	<input type="checkbox"/>	<input type="checkbox"/>
Ω endlich?																					
ja	nein																				
<input type="checkbox"/>	<input type="checkbox"/>																				
Jedes Ergebnis gleich wahrscheinlich?																					
ja	nein																				
<input type="checkbox"/>	<input type="checkbox"/>																				
Laplace-Experiment?																					
ja	nein																				
<input type="checkbox"/>	<input type="checkbox"/>																				

- Einen fairen 6-seitigen Würfel so lange werfen, bis zum ersten Mal ein Sechser gewürfelt wird.

Das Ergebnis des Zufallsexperiments ist die Anzahl der dafür benötigten Würfe.

$\Omega = \boxed{}$	<table style="width: 100%; border-collapse: collapse;"> <tr><th colspan="2" style="background-color: #cccccc;">Ω endlich?</th></tr> <tr><td style="width: 50%;">ja</td><td style="width: 50%;">nein</td></tr> <tr><td style="text-align: center;"><input type="checkbox"/></td><td style="text-align: center;"><input type="checkbox"/></td></tr> </table>	Ω endlich?		ja	nein	<input type="checkbox"/>	<input type="checkbox"/>	<table style="width: 100%; border-collapse: collapse;"> <tr><th colspan="2" style="background-color: #cccccc;">Jedes Ergebnis gleich wahrscheinlich?</th></tr> <tr><td style="width: 50%;">ja</td><td style="width: 50%;">nein</td></tr> <tr><td style="text-align: center;"><input type="checkbox"/></td><td style="text-align: center;"><input type="checkbox"/></td></tr> </table>	Jedes Ergebnis gleich wahrscheinlich?		ja	nein	<input type="checkbox"/>	<input type="checkbox"/>	<table style="width: 100%; border-collapse: collapse;"> <tr><th colspan="2" style="background-color: #cccccc;">Laplace-Experiment?</th></tr> <tr><td style="width: 50%;">ja</td><td style="width: 50%;">nein</td></tr> <tr><td style="text-align: center;"><input type="checkbox"/></td><td style="text-align: center;"><input type="checkbox"/></td></tr> </table>	Laplace-Experiment?		ja	nein	<input type="checkbox"/>	<input type="checkbox"/>
Ω endlich?																					
ja	nein																				
<input type="checkbox"/>	<input type="checkbox"/>																				
Jedes Ergebnis gleich wahrscheinlich?																					
ja	nein																				
<input type="checkbox"/>	<input type="checkbox"/>																				
Laplace-Experiment?																					
ja	nein																				
<input type="checkbox"/>	<input type="checkbox"/>																				

Beim Roulette gibt es 37 Felder, die mit den Zahlen von 0 bis 36 durchnummeriert sind. Davon sind 18 Felder rot, 18 Felder schwarz, und ein Feld ist grün. Mit einer Kugel wird ein Feld nach dem Zufallsprinzip ausgewählt. Die Kugel landet auf jedem der Felder in $\Omega = \{0, 1, 2, \dots, 36\}$ also mit der gleichen Wahrscheinlichkeit $\frac{\square}{\square}$.



Dieses Zufallsexperiment ist also ein Laplace-Experiment.

Für die Wahrscheinlichkeit, dass die Kugel auf einem roten Feld landet, gilt:

$$\Rightarrow P(\text{„Rot“}) = \underbrace{\frac{\square}{\square} + \frac{\square}{\square} + \dots + \frac{\square}{\square}}_{\square \text{ Summanden}} = \frac{\square}{\square}$$

Allgemein gilt bei Laplace-Experimenten für die Wahrscheinlichkeit, dass ein Ereignis A eintritt:

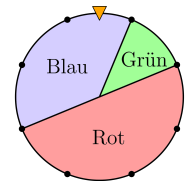
$$P(A) = \frac{\text{Anzahl Ergebnisse in } A}{\text{Anzahl Ergebnisse in } \Omega} = \frac{\text{Anzahl günstige Ergebnisse}}{\text{Anzahl mögliche Ergebnisse}}$$

Dieser neue Zugang zur Wahrscheinlichkeitsrechnung ist also mit unserem **bisherigen Zugang** bei Laplace-Experimenten verträglich. Mit ihm können wir aber zusätzlich Wahrscheinlichkeiten bei Zufallsexperimenten berechnen, die *keine* Laplace-Experimente sind.

Beim dargestellten Glücksrad sind 3 verschiedene Ergebnisse möglich: $\Omega = \{\text{Blau, Grün, Rot}\}$

1) Trage die Wahrscheinlichkeiten (in %) in die Tabelle ein.







Ergebnis ω_i	Blau	Grün	Rot
$P(\{\omega_i\})$			



2) Berechne die Wahrscheinlichkeit, dass das Ergebnis *nicht* Blau ist.

Bei einem bestimmten gezinkten 6-seitigen Würfel treten die Augenzahlen 1 bis 5 mit gleicher Wahrscheinlichkeit p auf. Die Augenzahl 6 ist dreimal so wahrscheinlich wie die Augenzahl 1.

1) Berechne p . Trage die Wahrscheinlichkeiten (in %) in die Tabelle ein.

Ergebnis ω_i						
$P(\{\omega_i\})$						

2) Berechne die Wahrscheinlichkeit, mit diesem gezinkten Würfel eine gerade Augenzahl zu werfen.



Magdalena erhält einen gezinkten Würfel, aber kennt seine Wahrscheinlichkeiten *nicht*.
 Magdalena wirft ihn 1000 Mal und notiert die Ergebnisse.
 Die absoluten Häufigkeiten der 6 Augenzahlen sind in der folgenden Tabelle zusammengefasst:

Ergebnis						
Absolute Häufigkeit	84	190	218	127	139	242

1) Trage die relativen Häufigkeiten als Brüche und die prozentuellen Häufigkeiten in die Tabelle ein.

Ergebnis						
Relative Häufigkeit						
Prozentuelle Häufigkeit						

2) Verwende die prozentuellen Häufigkeiten als Schätzwerte für die Wahrscheinlichkeiten, um die Wahrscheinlichkeit für eine gerade Augenzahl mit diesem Würfel zu schätzen.

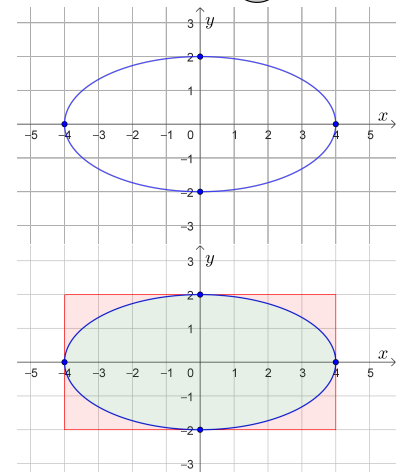
Geometrische Wahrscheinlichkeiten



Die rechts dargestellte Ellipse wird durch die Gleichung

$$x^2 + \boxed{} \cdot y^2 = \boxed{}$$

festgelegt. Trage die beiden fehlenden Zahlen in die Kästchen ein.
 Ihren Flächeninhalt können wir mithilfe der Wahrscheinlichkeitsrechnung annähern:



i) Im Bild rechts umschreiben wir der Ellipse ein Rechteck.

Dieses Rechteck hat den Flächeninhalt $\boxed{}$.

ii) Wir erzeugen nach dem Zufallsprinzip eine Zufallszahl $x \in \mathbb{R}$ mit $-4 \leq x \leq 4$ und eine Zufallszahl $y \in \mathbb{R}$ mit $-2 \leq y \leq 2$.

Der Punkt $(x | y)$ liegt genau dann auf oder innerhalb der Ellipse, wenn $x^2 + 4 \cdot y^2 \leq 16$ gilt.

iii) Das Python-Programm unten rechts hat 100 000 Paare solcher Zufallszahlen erzeugt.
 Davon waren 78 545 Paare auf oder innerhalb der Ellipse.

iv) Der relative Anteil der Ellipse am Rechteck beträgt also rund $\frac{\boxed{}}{\boxed{}}$.

v) Berechne damit einen Näherungswert für den Flächeninhalt der Ellipse.

```

1 from random import uniform
2
3 versuche = 100000
4 treffer = 0
5
6 for i in range(versuche):
7     x = uniform(-4,4)
8     y = uniform(-2,2)
9     if(x**2 + 4*y**2 <= 16):
10        treffer += 1
11
12 print("Von den", versuche, "Versuchen waren", treffer, "in der Ellipse.")

```

Kommandozeile >>> %Run Ellipse.py
 Von den 100000 Versuchen waren 78545 in der Ellipse.

Der exakte Flächeninhalt dieser Ellipse ist $8 \cdot \pi = 25,1327\dots$

